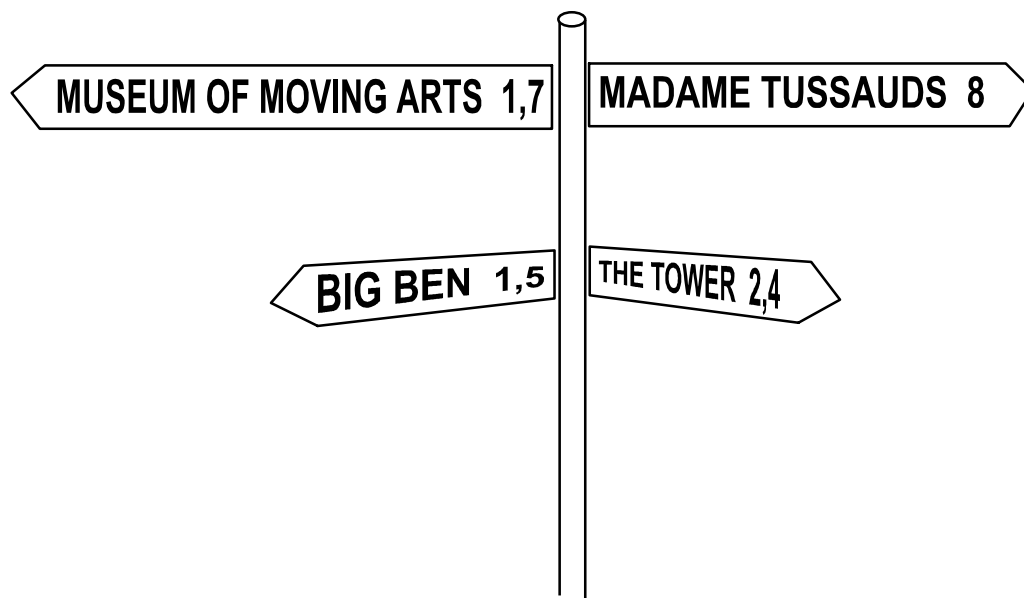




1. Familjen Lind är på semester i London. I London finns mycket att se. Familjen står nu vid en skylt som visar hur många *kilometer* det är till olika utflyktsmål.



- a) Hur mycket kortare är det att gå till Museum Of Moving Arts än till the Tower?
Visa hur du löser uppgiften.
- b) Familjen väljer att gå till the Tower. Efter halva vägen tar de en paus.
Hur långt har de kvar att gå?
Visa hur du löser uppgiften.
- c) Gör en egen räkneuppgift med hjälp av skylten.
Lös också din egen uppgift.

2. Familjen Lind (pappa, mamma och de fyra barnen, 5 år, 7 år, 9 år och 17 år gamla) besöker sedan Madame Tussauds vaxkabinette. Här ser du hur mycket det kostar:

Entrance

	Adults	£ 12.00
	Children (4-15 years)	£ 7.50

£ betyder brittiska pund.

£ 1.00 = 13.20 kr

- a) Hur mycket ska familjen betala i inträde?
Svara i pund.

Visa hur du löser uppgiften.

- b) Hur stor blir kostnaden i svenska kronor?

Visa hur du löser uppgiften.

3. Petra vill köpa klistermärken på Tower.
Hon har 15 brittiska pund.
Hur många klistermärken räcker pengarna till?
Visa hur du löser uppgiften.





Welcome
to
United Kingdom

