

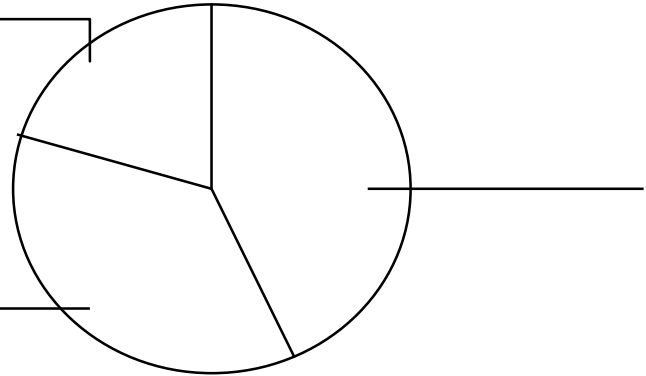
1. Siv och Lena undersökte vilket av TV-programmen *Simsons*, *Hjärnkontoret* eller *Lilla Sportspegeln* som var populärast i klassen. Resultatet redovisade de i ett cirkeldiagram.

Läs de tre meningarna. Skriv sedan in TV-programmen på rätt plats i diagrammet.

- Något färre än hälften av eleverna tyckte bäst om *Simsons*.

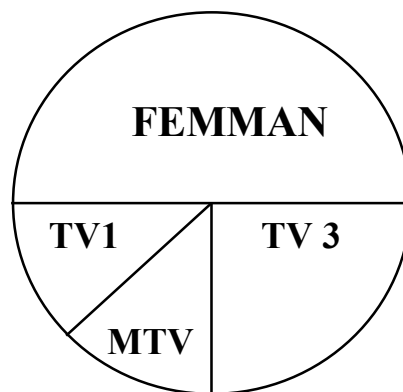
- *Lilla Sportspegeln* är ungefär hälften så populär som *Hjärnkontoret*.

- *Lilla Sportspegeln* är minst populär.



2. Sara och Anna gjorde också en undersökning. De tog reda på vilka TV-kanaler som var populärast av TV1, TV 3, ZTV och FEMMAN.

Sara och Anna visade sedan i ett cirkeldiagram hur stor del av eleverna som valde de olika TV-programmen.



- 10 elever tyckte bäst om FEMMAN, säger Sara.

Hur många elever var med i undersökningen?

Visa hur du löser uppgiften.

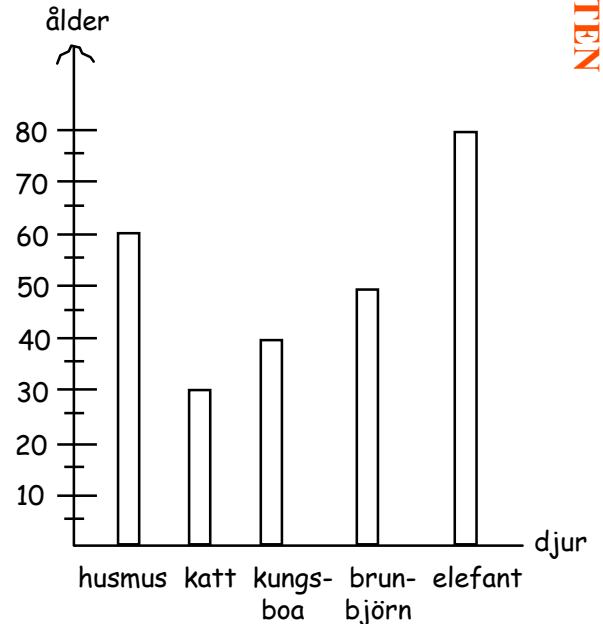
3. Samira och Noel ska göra en videofilm om djur. De tar reda på hur länge olika djur lever. Den här tabellen har de hittat på Internet.

Djur	Ålder
husmus	6
katt	30
kungsboa	40
brunbjörn	50
elefant	80

a) De ritat ett diagram utifrån tabellen. En av staplarna har blivit fel.

Vilken?

Vad har de gjort för fel?



b) Sedan skriver de fakta om djuren till filmmanuset. En av meningarna har blivit fel.

Stryk under den.

På vilket sätt är den fel?

Elefanten blir äldst.

Kungsboan blir dubbelt så gammal som elefanten.

Brunbjörnen lever 20 år längre än katten.

c) Jämför hur gamla de olika djuren kan bli. Skriv två egna meningar med hjälp av tabellen.